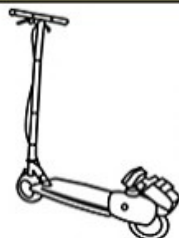


Imię uczestnika:

Kod szkoły:

Nazwisko uczestnika:

1 Nazwij pokazane obrazki. Zamaluj tyle kóelek ile sylab słyszysz w nazwie każdego z nich:




2 Ile w zadaniu numer 1 było przedmiotów składających się z jednej tylko sylaby?

- 1 2 3 4 5

4 Ile trójkątów widać na rysunku?

- 1 2 3 4 5
 6 7 8 9



6 Popatrz na rysunek. Nazwij go. Wyraz ten składa się z:

- 2 3 4 5 6 samogłosek
 2 3 4 5 6 spółgłosek
 5 6 7 8 9 głosek
 2 3 4 5 6 sylab



7 Mama chce dać Tosi 4 złote na zakupy w sklepiku szkolnym. Jakich monet może użyć?



9 Przeczytaj zdanie. Wskaż ile głosek "e" w nim występuje:


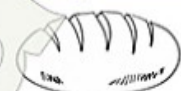
Przy stole siedzą mama, tata, Olek oraz mama taty i tata taty

- 1 2 3 4 5 6 7 8 9

3 Otocz pętlą zbiór figur identyczny jak ten, który jest drugi z lewej strony:



5 Zamaluj kratki odpowiadające głosce "b" w wyrazach:




8 Zamaluj kółko przy wyrazach, które mają dokładnie dwie samogłoski:

- lotnisko las lokomotywa
 czajnik molo latawiec

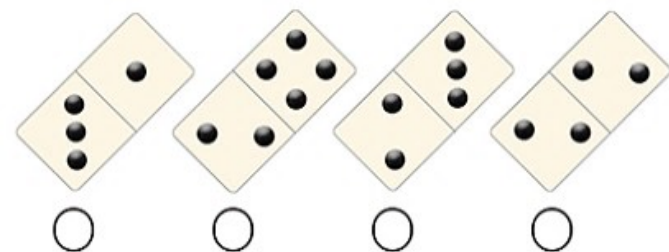
10 Wskaż, które z pokazanych produktów można kupić na wagę:




11 Który z obrazków nie pasuje do pozostałych?



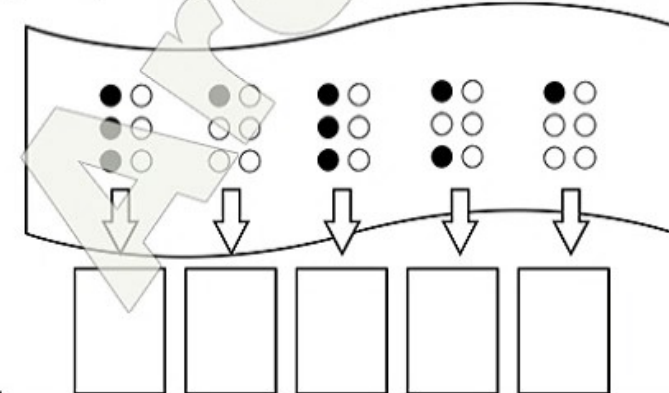
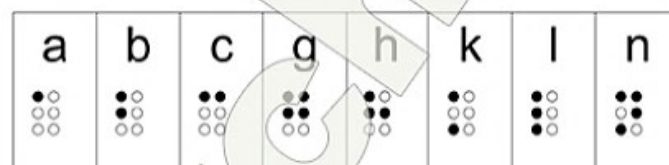
13 Która z kostek domina zawiera najwięcej kropek?



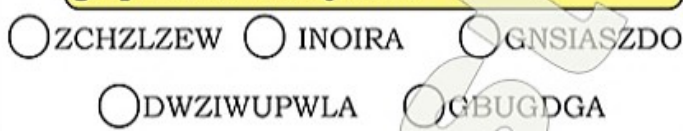
15 Policz ile jest owoców w każdym rzędzie. Zamaluj okienko z właściwym wynikiem:



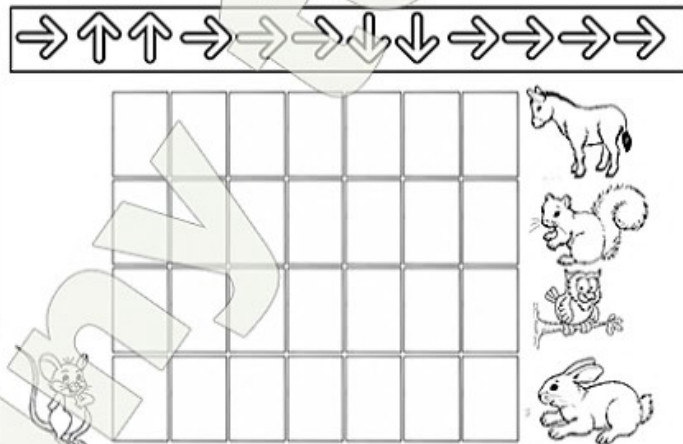
17 Poniżej przedstawione są wybrane litery zapisane alfabetem Braille'a. Rozszyfruj wyraz na wstędze poniżej i prawidłowo go zapisz:



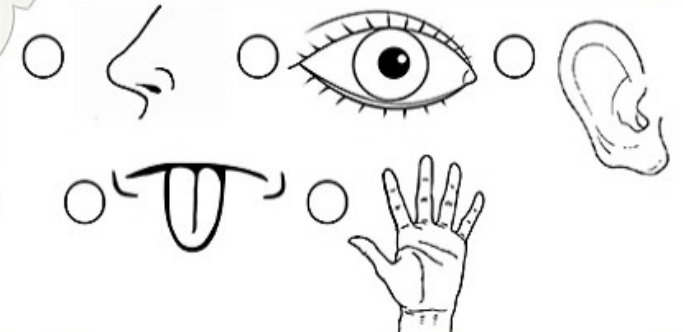
12 Wykreśl powtarzające się litery z podanych niżej wyrazów. Zaznacz te, które nazywają domy zwierząt w gospodarstwie wiejskim:



14 Mysz Alicja wybrała się w odwiedzinach do znajomego zwierzątka. Poruszała się przez labirynt posługując się następującym szyfrem. Kogo odwiedziła?



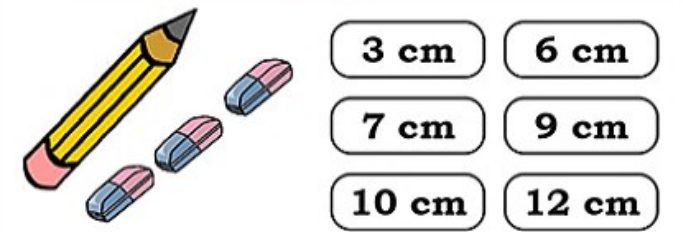
16 Który ze zmysłów jest najważniejszy dla człowieka?



18 Tomek miał 7 złotych. W sklepie kupił chleb za 3 złote. Ile złotych mu zostało?



19 Gumka ma 3 centymetry długości. Jak długi jest ołówek jeśli obok niego zmieściłyby się trzy gumki?



Imię uczestnika:

Kod szkoły:

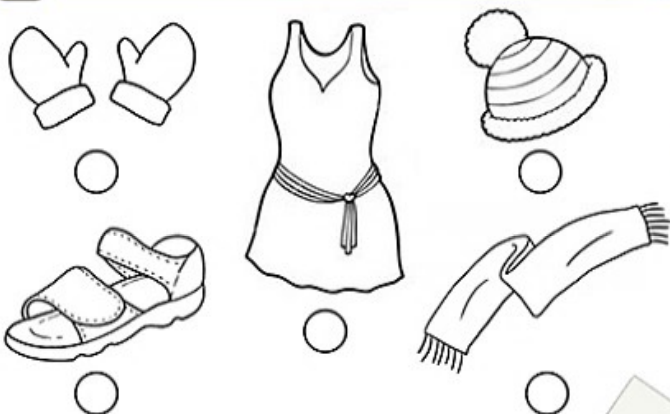
Nazwisko uczestnika:

20 Policz ile ramion ma pokazana gwiazdka:



- 1 2 3 4 5
 6 7 8 9

22 Jakich ubrań nie nosimy zimą?



25 Przeczytaj wyrazy OD KOŃCA. Które z nich określają rzecz, którą można zjeść lub wypić?

- KĘS RÓG KAJAK
 TROP KOS LATEM

27 Kto jest autorem wiersza dla dzieci pod tytułem "Lokomotywa"?

- Jan Brzechwa Julian Tuwim
 Maria Konopnicka Stanisław Jachowicz

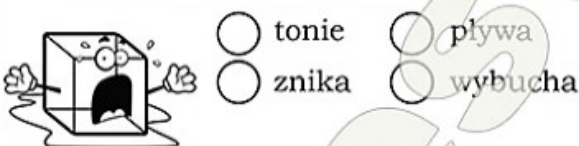
28 Którą z kolei planetą w Układzie Słonecznym jest Ziemia?

- 1 2 3 4 5 6 7 8 9

30 Która z poniższych cyfr rzymskich oznacza "dziewięć"?

- III IV VI
 IX VII

21 Jak zachowuje się kostka lodu wrzucona do szklanki z wodą?



- tonie pływa
 znika wybucha

23 Jak nazywa się legowisko niedźwiedzia?

- smrek watra gawra
 jaskinia pole oscypek

24 Jaki przedmiot nie przyda się nam w trakcie wycieczki do lasu?




26 Jaka nazwę nosi planeta Układu Słonecznego wyposażona w pierścienie?



- Mars
 Jowisz
 Saturn
 Uran

29 Popatrz na rakietę zbudowaną z klocków. O ile mniej trójkątów w porównaniu z kwadratami użyto do jej budowy?



- o jeden
 o dwa
 o trzy
 o cztery